

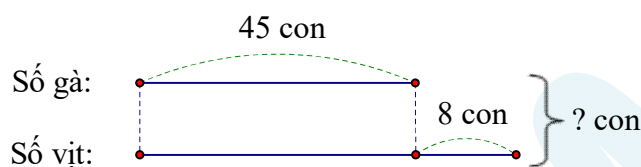
GIẢI BÀI TOÁN BẰNG HAI PHÉP TÍNH

Hướng dẫn giải

Giáo viên: Cao Thị Dung

Bài 1. Nhà Mai nuôi 45 con gà và số vịt nhiều hơn số gà là 8 con. Hỏi nhà Mai nuôi bao nhiêu con gà và vịt ?

HDG:

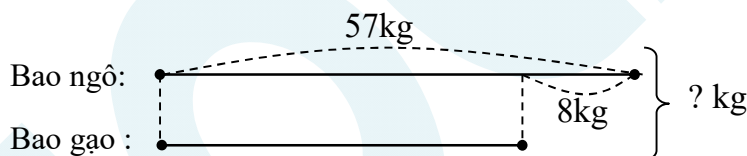


Số vịt nhà Mai nuôi là: $45 + 8 = 53$ (con)

Nhà Mai nuôi tất cả số con vịt là: $53 + 45 = 98$ (con)

Bài 2. Bao ngô nặng 57kg. Bao gạo nhẹ hơn bao ngô 8 kg. Hỏi cả hai bao nặng bao nhiêu ki-lô-gam ?

HDG:

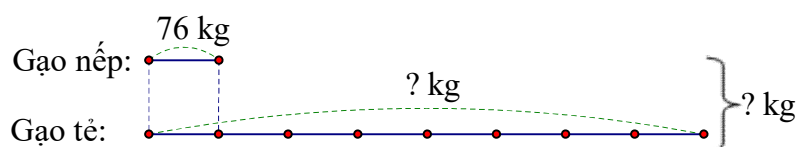


Bao gạo nặng số ki-lô-gam là: $57 - 8 = 49$ (kg)

Cả hai bao nặng số ki-lô-gam là: $49 + 57 = 106$ (kg)

Bài 3. Số gạo nếp là 76kg, số gạo tẻ gấp 8 lần số gạo nếp. Hỏi có tất cả bao nhiêu ki-lô-gam gạo nếp và gạo tẻ ?

HDG:



Số ki-lô-gam gạo tẻ là: $76 \times 8 = 608$ (kg)

Có tất cả số ki-lô-gam gạo nếp và gạo tẻ là: $608 + 76 = 684(\text{kg})$

Bài 4. Một quầy hàng nhận 3 thùng kẹo, mỗi thùng có 2 hộp, mỗi hộp có 56 cái kẹo. Hỏi quầy đó đã nhận bao nhiêu cái kẹo ?

HDG:

Có tất cả số hộp kẹo là: $2 \times 3 = 6$ (hộp)

Quầy đã nhận tất cả số kẹo là: $56 \times 6 = 336$ (cái)

Bài 5. Một đội sửa đường trong 3 ngày đầu, mỗi ngày sửa được 135m đường. Ngày thứ tư, đội sửa được 145m. Hỏi trong 4 ngày đội đó sửa được tất cả bao nhiêu mét đường ?

HDG:

Ba ngày đầu sửa được số mét đường là: $135 \times 3 = 405(\text{m})$

Trong 4 ngày đội đó sửa được tất cả số mét đường là: $405 + 145 = 550(\text{m})$

Bài 6. Trên xe buýt có 42 người khách. Đến bến A có 6 người xuống xe. Tới bến B lại có 14 người nữa xuống xe. Hỏi khi rời bến B, trên xe còn lại bao nhiêu khách ? Biết ở các bến đều không có người lên xe.

HDG:

Số người còn lại sau khi rời bến A là: $42 - 6 = 36$ (người)

Số người còn lại trên xe sau khi rời bến B là: $36 - 14 = 22$ (người)

Bài 7. Có ba tấm vải: tấm vải xanh dài 36m, tấm vải đỏ dài 49m và tấm vải trắng dài 15m. Hỏi cả ba tấm vải dài bao nhiêu mét ?

HDG:

Cách 1: Tấm vải xanh và tấm vải đỏ dài là: $36 + 49 = 85(\text{m})$

Cả ba tấm vải dài là: $85 + 15 = 100(\text{m})$

Cách 2: Ba tấm vải dài số mét là: $36 + 49 + 15 = 100(\text{m})$

Bài 8. Trên bàn có 32 quả vừa cam, quýt và hồng. Có 4 quả hồng và 15 quả quýt. Hỏi có bao nhiêu quả cam ?

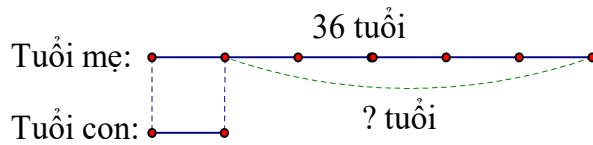
HDG:

Có số quả hồng và quýt là: $15 + 4 = 19$ (quả)

Số quả cam là: $32 - 19 = 13$ (quả)

Bài 9. Năm nay mẹ 36 tuổi. Tuổi mẹ gấp 6 lần tuổi con. Hỏi mẹ hơn con bao nhiêu tuổi ?

HDG:



Tuổi của con năm nay là: $36 : 6 = 6$ (tuổi)

Mẹ hơn con số tuổi là: $36 - 6 = 30$ (tuổi)

Bài 10. Mẹ mua về 8 tập nhãn vở, mỗi tập có 12 chiếc. Hiện nay em đã dùng hết $\frac{1}{3}$ số nhãn vở đó. Hỏi em đã dùng bao nhiêu cái nhãn vở ?

HDG:

Có tất cả chiếc nhãn vở là: $12 \times 8 = 96$ (cái)

Em đã dùng số nhãn vở là: $96 : 3 = 32$ (cái)

Giáo viên : Cao Thị Dung

Nguồn :  Hocmai